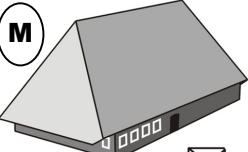
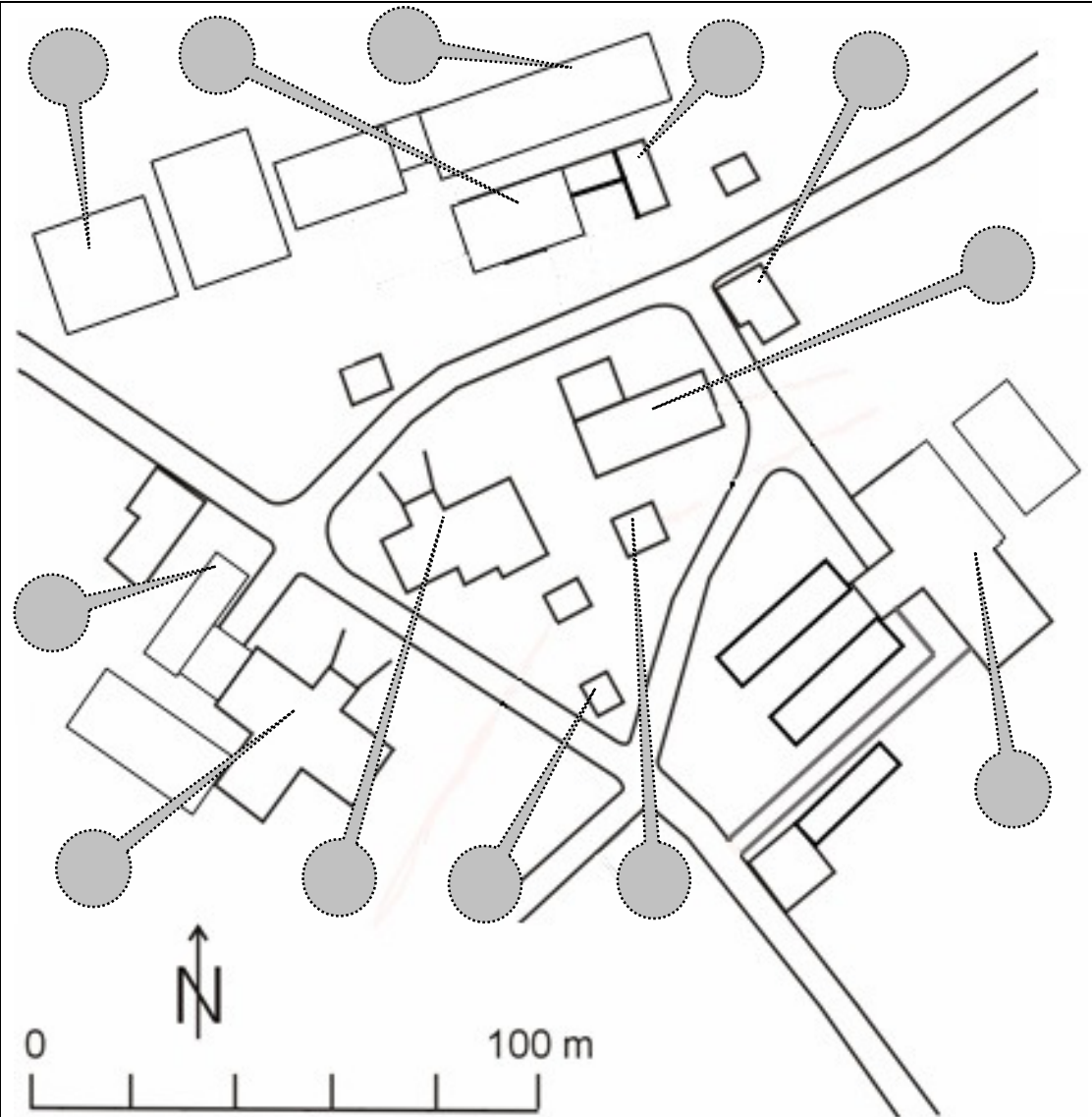

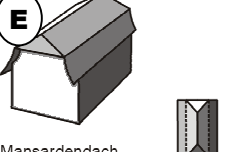
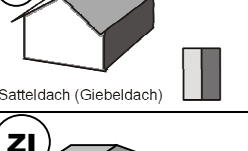
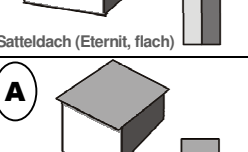
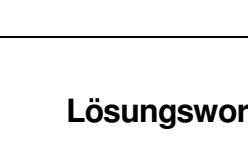


Dachformen auf dem Jerisberghof (Version schwer)

Suche mit Hilfe des Planes die markierten Gebäude auf dem Jerisberghof auf und studiere die Dachformen. Halte den Code-Buchstaben des jeweils richtigen Dachtyps im entsprechenden Kreis fest und kombiniere am Schluss aus den Buchstaben das Lösungswort.

<p>M</p>  <p>Vollwalmdach, Fensterfront traufseitig</p>	
<p>N</p>  <p>Krüppelwalmdach, mit Ründe</p>	
<p>E</p>  <p>Mansardendach</p>	
<p>R</p>  <p>Satteldach (Giebeldach)</p>	
<p>ZI</p>  <p>Satteldach (Eternit, flach)</p>	
<p>A</p>  <p>Pultdach</p>	

Lösungswort:

1	2	3	4	5	6	7	8	9	10	11	12		

Name, Adresse: